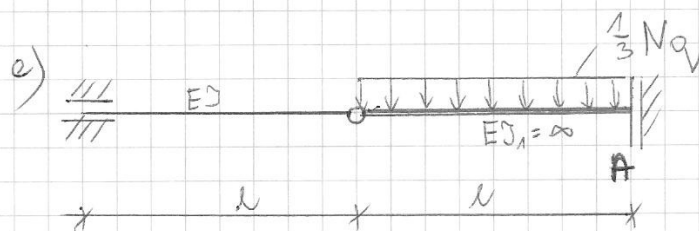
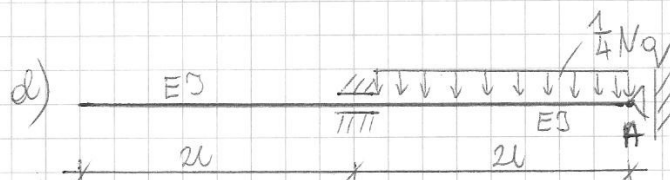




Zadanie projektowe z linii ugięcia belki
 mechanika techniczna, sem. III, 15 st. niestacjonarne

Oblicz przemieszczenie punktu A metodą Mohra.

N - dowolny liter w imieniu

Dane: P, EI, l .



Wybierz tylko sposób podanych przykładów i dla nich rozwiąż zadanie projektowe.

Dla wybranych przypadków naszkicuj również linię ugięcia belki.